

SULIT
3757/1
Ekonomi Asas
Kertas 1
Ogos-Sept
1¼ jam

3757/1

**PERSIDANGAN PENGETUA-PENGETUA
SEKOLAH MENENGAH
NEGERI KEDAH DARUL AMAN**

PEPERIKSAAN PERCUBAAN SPM 2010

EKONOMI ASAS

KERTAS 1

SATU JAM LIMA BELAS MINIT

JANGAN BUKA KERTAS SOALAN INI SEHINGGA DIBERITAHU

1. *Kertas soalan ini mengandungi **40** soalan.*
2. *Jawab semua soalan.*
3. *Tiap-tiap soalan diikuti oleh empat pilihan jawapan, iaitu **A, B, C dan D**. Bagi setiap soalan, pilih **satu** jawapan sahaja. **Hitamkan** jawapan anda pada kertas jawapan objektif yang disediakan.*
4. *jika anda hendak menukar jawapan, padamkan tanda yang telah dibuat kemudian hitamkan jawapan yang baru.*
5. *Anda dibenarkan menggunakan kalkulator saintifik yang tidak boleh diprogram.*

Kertas soalan ini mengandungi 22 halaman bercetak

[Lihat sebelah

3757/1

SULIT

Tiap-tiap soalan diikuti oleh empat pilihan jawapan. Pilih **satu** jawapan yang terbaik bagi tiap-tiap soalan dan hitamkan ruangan yang sepadan pada kertas jawapan objektif anda.

1. Dalam mengatasi masalah ekonomi, isi rumah membuat pilihan berdasarkan barang yang memberi kepuasan maksimum kepadanya. Firma pula membuat pilihan berdasarkan
 - A Keluaran yang mudah dihasilkan
 - B Keluaran yang disukai oleh pengguna
 - C Keluaran yang memberi keuntungan maksimum
 - D keluaran yang memaksimumkan kos pengeluaran
2. Persamaan di antara cahaya matahari dan cahaya lampu jalan dari segi ekonomi ialah
 - A Dikeluarkan oleh pihak kerajaan
 - B Tidak dikenakan bayaran
 - C Penawaran yang terhad
 - D Melibatkan kos lepas

Cik Liana pemilik butik pakaian pengantin memutuskan untuk menghasilkan 50 pasang baju pengantin sehingga bulan Mei nanti.

3. Merujuk pernyataan di atas, apakah masalah asas ekonomi yang telah diselesaikan oleh Cik Liana?
 - I Apakah barang yang hendak dikeluarkan?
 - II Berapakah banyak barang yang dikeluarkan?
 - III Bagaimanakah barang dikeluarkan?
 - IV Untuk siapakah barang dikeluarkan?
 - A I dan II
 - B I dan III
 - C II dan IV
 - D III dan IV

4. Apakah persamaan antara sistem ekonomi campuran dan sistem ekonomi kapitalis?

- I Mekanisme harga
- II Persaingan bebas
- III Tiada campur tangan kerajaan
- IV Wujud monopoli dalam ekonomi
- A I dan II
- B I dan III
- C II dan IV
- D III dan IV

Negara A	Negara B
Kerajaan mengeluarkan barang yang tidak dapat disediakan oleh pihak swasta	Kerajaan menentukan barang untuk keperluan rakyat.

Jadual 1

5. Berdasarkan jadual 1 di atas, apakah sistem ekonomi yang diamalkan oleh Negara A dan Negara B?

- A Sistem Ekonomi Kapitalis dan Sistem Ekonomi Perancangan Pusat
- B Sistem Ekonomi Campuran dan Sistem Ekonomi Perancangan Pusat
- C Sistem Ekonomi Campuran dan Sistem Ekonomi Islam
- D Sistem Ekonomi Kapitalis dan Sistem Ekonomi Islam

Cik Farah Hanim merupakan seorang doktor. Sementara itu, bapa dan datuknya juga merupakan seorang doktor.

6. Berdasarkan maklumat di atas, apakah faktor utama menyebabkan Cik Farah Hanim menjadi seorang doktor?

- A Upah
- B Minat
- C Pengaruh keluarga
- D Suasana tempat kerja

Encik Hakim merupakan seorang pesara guru. Beliau menyara kehidupan keluarganya dengan pencen dan pada masa yang sama menerima pendapatan daripada simpanan wang di bank.

7. Merujuk kepada pernyataan di atas, apakah jenis pendapatan yang diperolehi oleh Encik Hakim?
- A Upah dan faedah
 - B Untung dan faedah
 - C Bayaran pindahan dan sewa
 - D Bayaran pindahan dan faedah
8. Jadual 2 di bawah menunjukkan pendapatan dan perbelanjaan Encik Latif bagi tahun 2009

Butiran	RM
Upah	35 000.00
Faedah bank	250.00
Perubatan ibu bapa	1 000.00
Caruman KWSP	3 800.00
Cukai pendapatan	550.00
Insurans kereta	850.00

Jadual 2

Hitungkan pendapatan boleh guna Encik Latif bagi tahun tersebut.

- A RM30 650.00
- B RM30 900.00
- C RM28 800.00
- D RM29 050.00

Butiran	RM
Pendapatan tahunan	36 000.00
Pelepasan diri	8 000.00
Perubatan ibu bapa	1 450.00
Caruman KWSP	3 960.00
Insurans kenderaan	1 200.00

Jadual 3

9. Berdasarkan jadual 3, hitungkan nilai pelepasan cukai yang diperolehi oleh Cik Suzana?

- A RM13 410.00
- B RM14 610.00
- C RM21 390.00
- D RM22 590.00

10. Belanjawan peribadi disediakan oleh individu untuk

- A Menggalakkan individu melabur
- B Menggalakkan individu berbelanja
- C Menggalakkan individu berhutang
- D Menggalakkan individu menabung

11. Seseorang individu boleh menambahkan pendapatannya dengan cara

- I Menabung
 - II Meminjam
 - III Melabur
 - IV Membeli barang
- A I dan II
 - B I dan III
 - C II dan III
 - D III dan IV

12. Apakah peranan isi rumah?

- A Mendapat untung daripada aktiviti menjual barang dan perkhidmatan
- B Menerima pendapatan dalam bentuk upah dan faedah
- C Menawarkan barang dan perkhidmatan di pasaran
- D Membekalkan buruh, modal, tanah dan usahawan

13. Jadual 4 menunjukkan hubungan antara harga dengan kuantiti yang diminta.

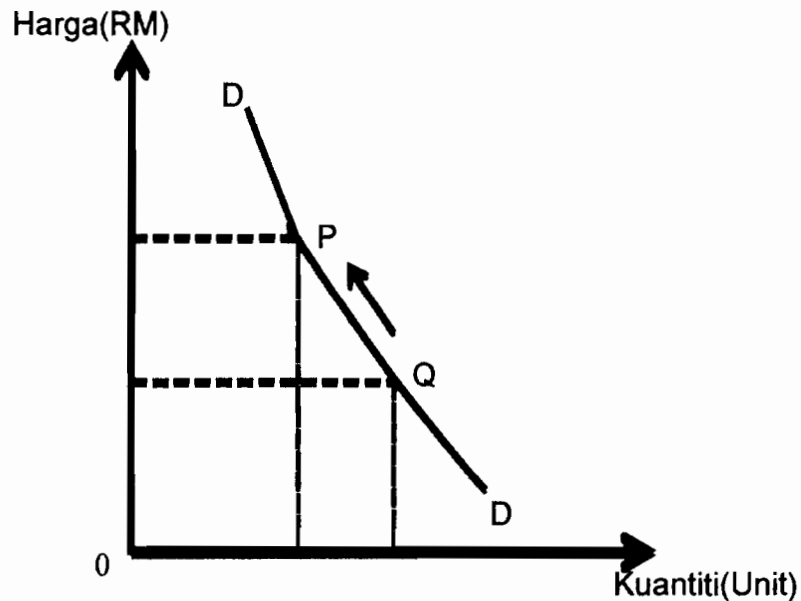
Harga seunit (RM)	Kuantiti barang diminta (Unit)
1	50
2	47
3	45
4	45
5	35
6	25

Jadual 4

Antara berikut yang manakah menunjukkan pergerakan yang bertentangan dengan hukum permintaan?

- A Dari RM1 ke RM2
- B Dari RM2 ke RM3
- C Dari RM3 ke RM4
- D Dari RM5 ke RM6

14. Rajah 1 menunjukkan keluk permintaan bagi suatu barang

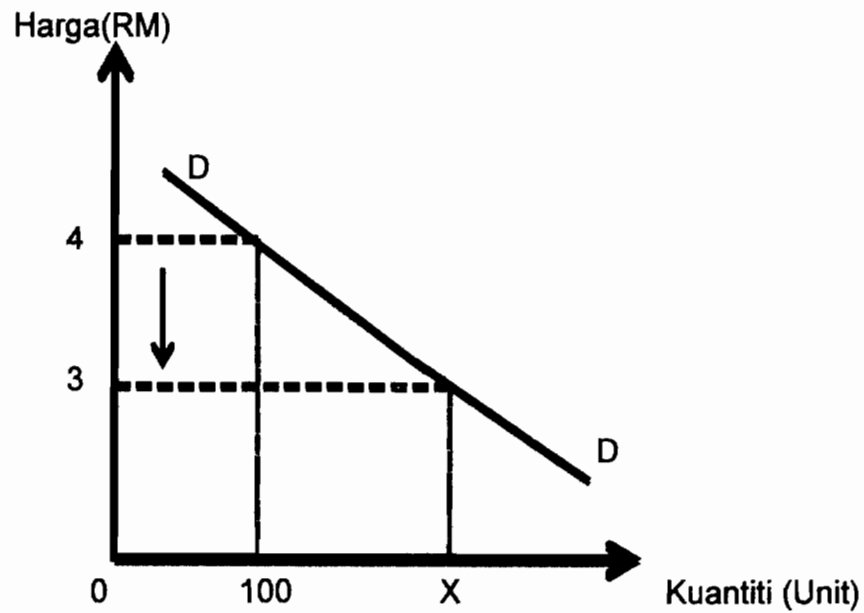


Rajah 1

Apakah yang menyebabkan pergerakan dari titik Q ke titik P?

- A Peningkatan harga barang itu
- B Kejatuhan harga barang lain
- C Citarasa pengguna berkurang
- D Kejatuhan pendapatan pengguna

15. Rajah 2 menunjukkan keluk permintaan suatu barang



Rajah 2

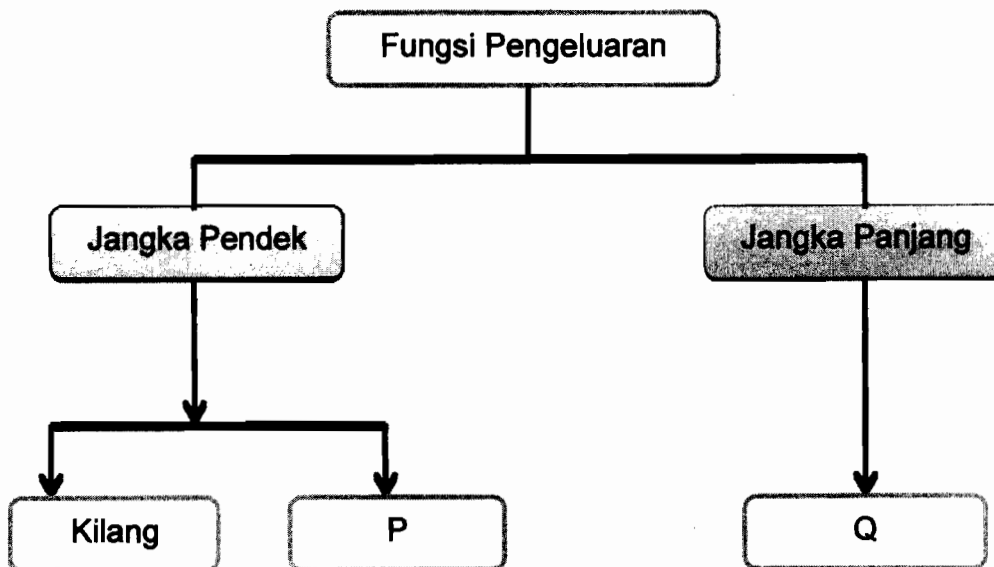
Hitungkan nilai X jika nilai pekali keanjalan harga permintaan bagi barang tersebut ialah 2

- A 200 unit
- B 150 unit
- C 120 unit
- D 112.5 unit

16. Antara berikut yang manakah merujuk kepada pengeluaran?

- A Aktiviti firma menggabungkan tenaga kerja di pasaran buruh
- B Aktiviti isi rumah dan firma bagi memaksimumkan kepuasan
- C Aktiviti isi rumah bagi menawarkan faktor pengeluaran
- D Aktiviti firma menggabungkan input-input pengeluaran

17. Rajah 3 di bawah berkaitan jenis-jenis input



Rajah 3

Berdasarkan rajah di atas, yang manakah menerangkan P dan Q?

	P	Q
A	Tanah	Input berubah
B	Buruh	Input berubah
C	Buruh	Input tetap
D	Tanah	Input tetap

Soalan 18 dan Soalan 19 berdasarkan jadual 5 di bawah

Keluaran	2	4	6	8	10
Kos Berubah (RM)	30	80	130	180	240

Jadual 5

18. Jika kos pengeluaran pada keluaran ke-4 ialah RM130, hitungkan kos purata pada keluaran yang ke-6.

- A RM15
- B RM22
- C RM30
- D RM50

19. Kirakan kos sut bagi keluaran yang ke-6.

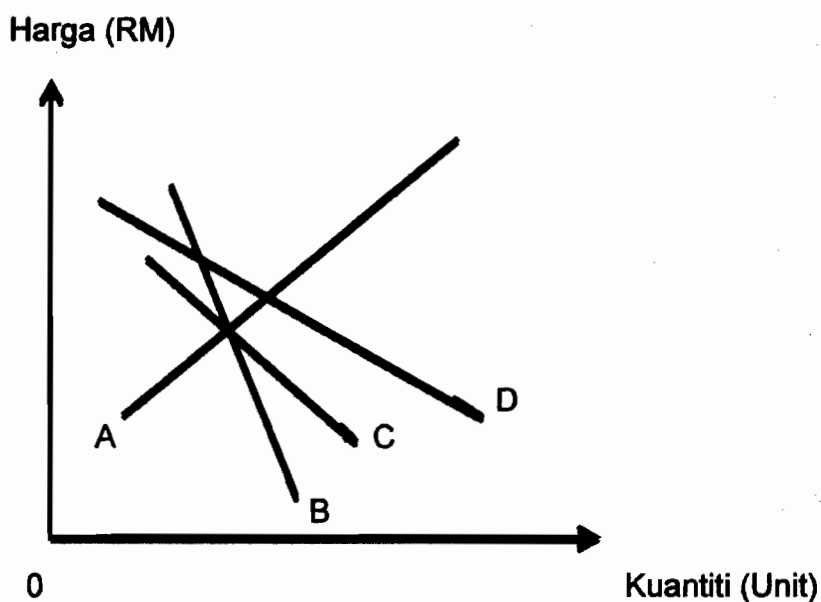
- A RM25
- B RM30
- C RM50
- D RM130

20. Jadual 6 menunjukkan hubungan di antara harga dengan kuantiti ditawarkan.

Harga(RM)	Kuantiti ditawarkan(Unit)
5	40
4	35
3	30
2	25
1	20

Jadual 6

Keluk manakah yang terbentuk daripada jadual di atas



21. Jadual 7 menunjukkan pasaran barang Q

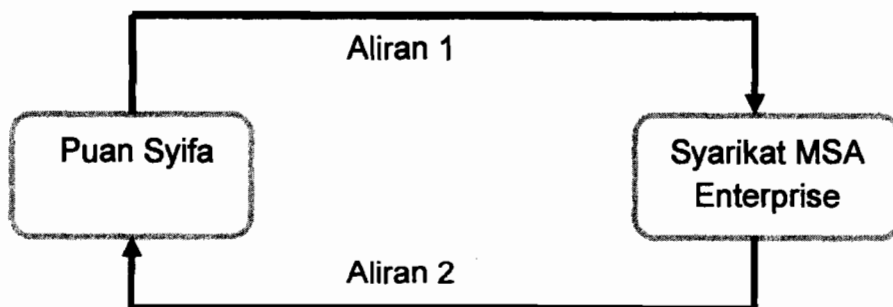
Harga Barang Q (RM)	Kuantiti Diminta (Unit)	Kuantiti Ditawar (Unit)
5	35	27
7	30	30
9	26	38

Jadual 7

Apakah yang berlaku dalam pasaran barang Q pada tingkat harga RM5.00?

- I Lebih permintaan
 - II Lebih penawaran
 - III Harga akan menurun
 - IV Harga akan meningkat
-
- A I dan II
 - B I dan IV
 - C II dan III
 - D III dan IV

22. Rajah 4 menunjukkan aliran wang dalam pusingan pendapatan ekonomi dua sektor

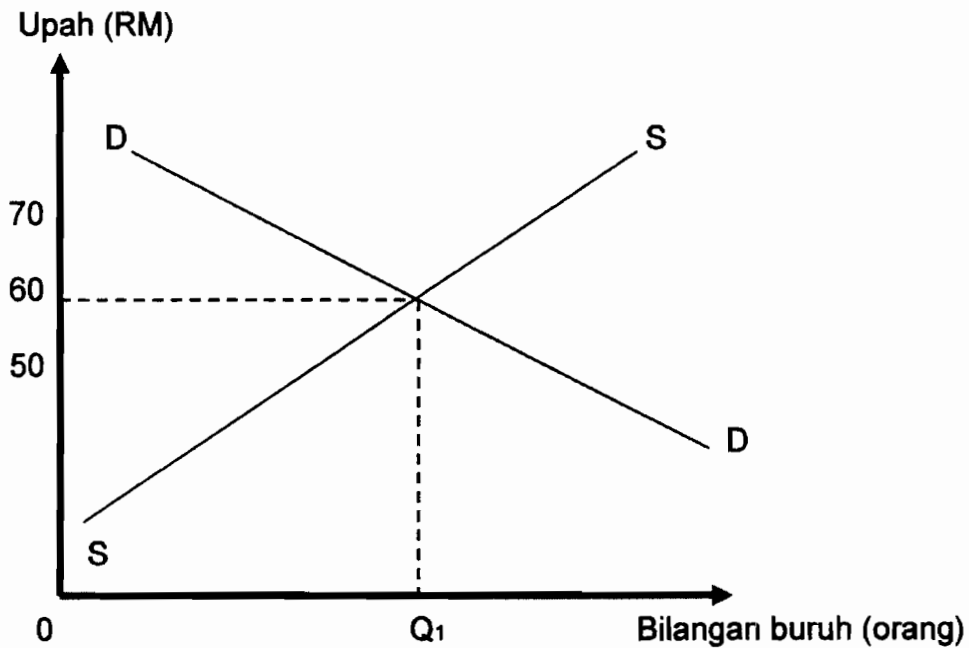


Rajah 4

Berdasarkan rajah 4, pasangan manakah yang benar?

	Aliran 1	Aliran 2
A	Upah	Perbelanjaan isi rumah
B	Buruh	Barang dan perkhidmatan
C	Barang dan perkhidmatan	Buruh
D	Perbelanjaan isi rumah	Upah

23.



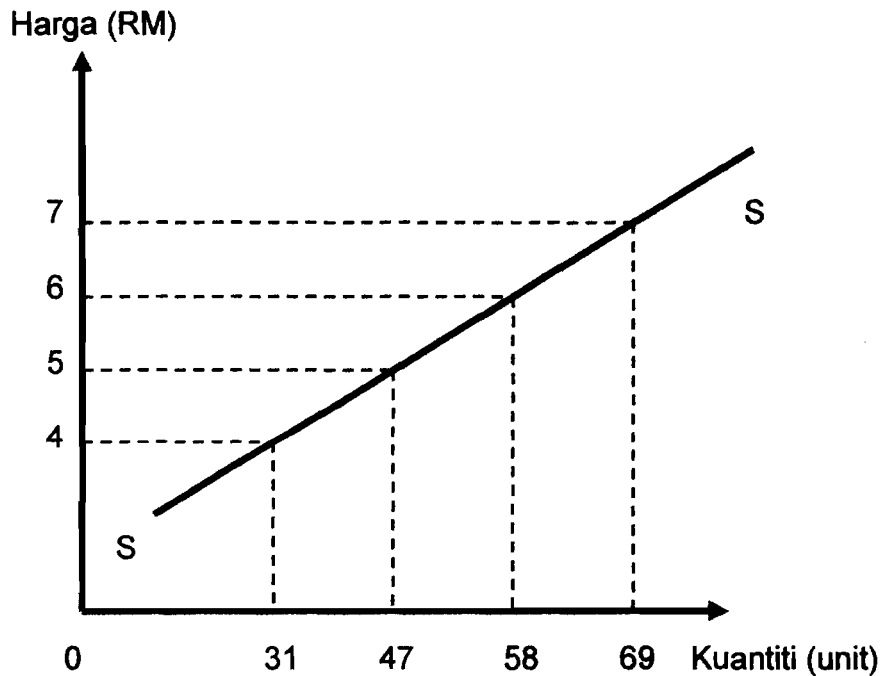
Rajah 5

Rajah 5 menunjukkan keluk keseimbangan pasaran buruh. Apakah kesan ke atas pasaran buruh apabila upah pada RM70?

- I Kadar upah akan jatuh
- II Kadar upah akan naik
- III Lebihan penawaran buruh
- IV Lebihan permintaan buruh

- A I dan II
- B I dan III
- C II dan IV
- D III dan IV

24. Rajah 6 menunjukkan keluk penawaran pasaran bagi firma X dan Y.



Rajah 6

Antara berikut yang manakah menunjukkan penawaran Firma X dan Firma Y?

A

Harga (RM)	Firma X	Firma Y
4	14	17
5	19	28
6	23	35
7	31	38

B

Harga (RM)	Firma X	Firma Y
4	17	14
5	18	29
6	25	32
7	36	33

C

Harga (RM)	Firma X	Firma Y
4	14	17
5	20	27
6	22	33
7	33	36

D

Harga (RM)	Firma X	Firma Y
4	13	18
5	25	22
6	29	31
7	33	38

25. Mengapakah deposit semasa tidak diterima sebagai wang sah?

- A Pembayaran melalui cek boleh ditangguhkan
- B Pembayaran dilakukan dengan menggunakan cek
- C Pembayaran melalui cek boleh ditolak oleh masyarakat
- D Pembayaran melalui cek bukan jaminan wang ada di bank

26. Apakah persamaan bagi Kumpulan Wang Simpanan Pekerja (KWSP) dan Bank Simpanan Nasional (BSN)?

- A Memberi kemudahan pelaburan
- B Menyediakan perkhidmatan nasihat kewangan
- C Memberi kemudahan pinjaman kepada masyarakat
- D Menggalakkan tabungan dalam kalangan masyarakat

27. Maklumat berikut berkaitan dengan fungsi bank perdagangan

Encik Ali pengeluar barangan X memerlukan wang dalam urusan perniagaannya. Beliau mempunyai bil penjualan barang kepada pengimport tetapi belum sampai tempoh matang untuk mendapatkan wang. Beliau boleh mendapatkan wang dengan cara mencagarkan bil penjualan barangannya kepada bank perdagangan dengan nilai yang diperolehinya kurang daripada nilai bil

Apakah kemudahan yang boleh diberikan oleh bank perdagangan kepada Encik Ali?

- A Penjualan bil-bil perbendaharaan
- B Penjualan bil-bil pertukaran
- C Mendiskaunkan bil-bil pertukaran
- D Mendiskaunkan bil-bil muatan kapal

28. Antara berikut, yang manakah menerangkan fungsi institusi kewangan bukan bank?

	Institusi Kewangan Bukan Bank	Fungsi
I	Syarikat Takaful	Memberi pinjaman kepada ahli
II	Lembaga Tabung Haji	Membeli sijil pelaburan kerajaan
III	Syarikat Kewangan	Menerima deposit dan memberi pinjaman
IV	Kumpulan Wang Simpanan Pekerja	Memberi perlindungan terhadap harta benda individu

- A I dan II
- B I dan IV
- C II dan III
- D III dan IV

29. Encik Zul merupakan ahli lembaga pengarah sebuah syarikat. Beliau ingin mengembangkan lagi perniagaannya dengan menawarkan saham-saham syarikatnya kepada orang ramai dan menyenaraikan syarikatnya di Bursa Saham Malaysia. Institusi bank manakah menyediakan perkhidmatan yang diperlukan oleh Encik Zul?

- I ABC Merchant Bank Berhad
- II XYZ Bank Berhad
- III PQR Bank Berhad
- IV JKM Merchant Bank Berhad

- A I dan II
- B I dan IV
- C II dan III
- D III dan IV

30. Mengapakah kerajaan masih memberi perhatian yang serius terhadap sektor utama walaupun pergantungan kepada sektor ini menimbulkan pelbagai masalah?

- A Harga pasaran keluaran sektor utama semakin stabil
- B Keupayaan menyerap guna tenaga oleh sektor utama semakin meningkat
- C Modal yang diperlukan bagi pembangunan sektor utama tidak terlalu tinggi
- D Sektor utama merupakan pembekal bahan mentah kepada sektor perindustrian

31. Antara berikut, institusi kewangan manakah merupakan sumber pinjaman terbesar kerajaan?

- A Syarikat insurans
- B Syarikat kewangan
- C Lembaga Tabung Haji
- D Kumpulan Wang Simpanan Pekerja

32. Antara berikut yang manakah cara kerajaan memperoleh pinjaman dari luar negara?

- I Menerbitkan sijil pelaburan
- II Membuat pinjaman projek
- III Menerima kredit pembekal
- IV Menerbit bil-bil perbendaharaan

- A I dan II
- B I dan IV
- C II dan III
- D III dan IV

33. Soalan 33 berdasarkan jadual 8 di bawah

Sumber Hutang Negara A	Jumlah (RM Juta)
Sekuriti kerajaan	109 550
Pinjaman pasaran	27 223
Pinjaman projek	10 355
Sijil pelaburan	5 000
Bil perbendaharaan	4320

Jadual 8

Hitungkan jumlah hutang dalam negeri dan hutang luar negara bagi Negara A

	Hutang Dalam Negeri(RM Juta)	Hutang Luar Negara(RM Juta)
A	118 870	37 578
B	36 543	119 905
C	113 870	42 578
D	15 355	141 093

34. Antara pasangan berikut yang manakah yang benar?

	Perbelanjaan Mengurus	Perbelanjaan Pembangunan
A	Perkhidmatan sosial	Bekalan dan perkhidmatan
B	Pentadbiran am	Bayaran khidmat hutang
C	Emolumen, ganjaran dan pencen	Sektor perkhidmatan ekonomi
D	Keselamatan	Biasiswa dan bantuan pelajaran

35. Maklumat berikut adalah diperolehi daripada akaun semasa Negara Z bagi tahun 2009

Butiran	Ringgit Malaysia(RM)
Eksport	201 500
Import	180 750
Perjalanan	2 225
Pendapatan pelaburan	- 12 010
Pindahan bersih	- 3 345
Akaun modal	10 050

Berapakah imbangan perkhidmatan bagi Negara Z pada tahun tersebut?

- A RM27 455
- B RM20 750
- C - RM13 130
- D - RM9 785

36. Situasi manakah yang dapat membaiki imbalan pembayaran Malaysia?

- I Pekerja asing Filipina dan Indonesia menghantar wang ke negara asal
 - II Menganjurkan perlumbaan kereta "Formula One" di Litar Sepang
 - III Firma asing membuat pelaburan dalam bidang hartanah di Malaysia
 - IV Petronas membiayai pelajar melanjutkan pelajaran ke luar negara
-
- A I dan II
 - B I dan IV
 - C II dan III
 - D III dan IV

37. Berikut adalah perbelanjaan Puan Shahida di London

Sepasang kasut	-	£120
Sehelai baju	-	£140

Berdasarkan kadar pertukaran RM1 = £0.17, berapakah Ringgit Malaysia yang telah dibelanjakan oleh Puan Shahida?

- A RM1 529.41
- B RM823.53
- C RM704.88
- D RM44.20

38. Apakah kesan daripada kejatuhan nilai Ringgit Malaysia?

- A Imbangan dagangan Malaysia boleh menjadi negatif
- B Harga barang Malaysia di luar negara mahal
- C Eksport Malaysia akan berkurangan
- D Import Malaysia akan berkurangan

Soalan 39 hingga Soalan 40 berdasarkan pilihan jawapan dalam jadual di bawah

Pilihan	Pernyataan I	Pernyataan II
A	Betul	Salah
B	Salah	Betul
C	Salah	Salah
D	Betul	Betul

39. I Dari sudut ilmu ekonomi orang kaya tidak pernah menghadapi masalah kekurangan

II Orang kaya mampu memenuhi semua kehendaknya walaupun harganya mahal

40. I Sektor perkilangan Malaysia kurang memproses bahan mentah tempatan

II Industri perkilangan Malaysia memerlukan lebih banyak buruh mahir tempatan

KERTAS SOALAN TAMAT

SULIT
3757/2
Ekonomi Asas
Kertas 2
Ogos-Sept
2 jam

3757/2

PERSIDANGAN PENGETUA-PENGETUA
SEKOLAH MENENGAH
NEGERI KEDAH DARUL AMAN

PEPERIKSAAN PERCUBAAN SPM 2010

EKONOMI ASAS

KERTAS 2

DUA JAM

JANGAN BUKA KERTAS SOALAN INI SEHINGGA DIBERITAHU

1. *Kertas soalan ini mengandungi dua bahagian: **Bahagian A** dan **Bahagian B**.*
2. *Jawab **tiga** soalan daripada **Bahagian A** dan **satu** soalan di **Bahagian B**.*
3. *Jawapan hendaklah ditulis dalam kertas jawapan yang disediakan.*
4. *Markah yang diperuntukkan bagi setiap soalan atau ceraian soalan ditunjukkan dalam kurungan.*
5. *Anda dibenarkan menggunakan kalkulator saintifik yang tidak boleh diprogram.*

Kertas soalan ini mengandungi 12 halaman bercetak

[Lihat sebelah

3757/2

SULIT

Bahagian A

Jawab mana-mana **tiga** soalan dalam bahagian ini.

- 1 (a) Petikan berikut adalah berkaitan dengan Firma A

Firma A sebuah kilang mengeluarkan barangan elektrik bercadang mengeluarkan ketuhar dan menangguhkan pengeluaran alat penghawa dingin memandangkan musim perayaan akan tiba tidak lama lagi.

Merujuk kepada situasi di atas,

- (i) Bagaimanakah Firma A menyelesaikan masalah ekonomi? [4 markah]
 - (ii) Huraikan masalah asas ekonomi yang belum diselesaikan oleh Firma A. [4 markah]
- (b) Gambar 1 dan gambar 2 menunjukkan pernyataan oleh dua unit ekonomi



- (i) Namakan sistem ekonomi dalam gambar 1 dan gambar 2. [2 markah]
- (ii) Bezakan **tiga** ciri sistem ekonomi pada b(i). [6 markah]

- (c) Encik Muaz mempunyai isteri yang tidak bekerja dan tiga orang anak yang masih bersekolah. Berikut merupakan maklumat kewangan beliau bagi tahun 2009.

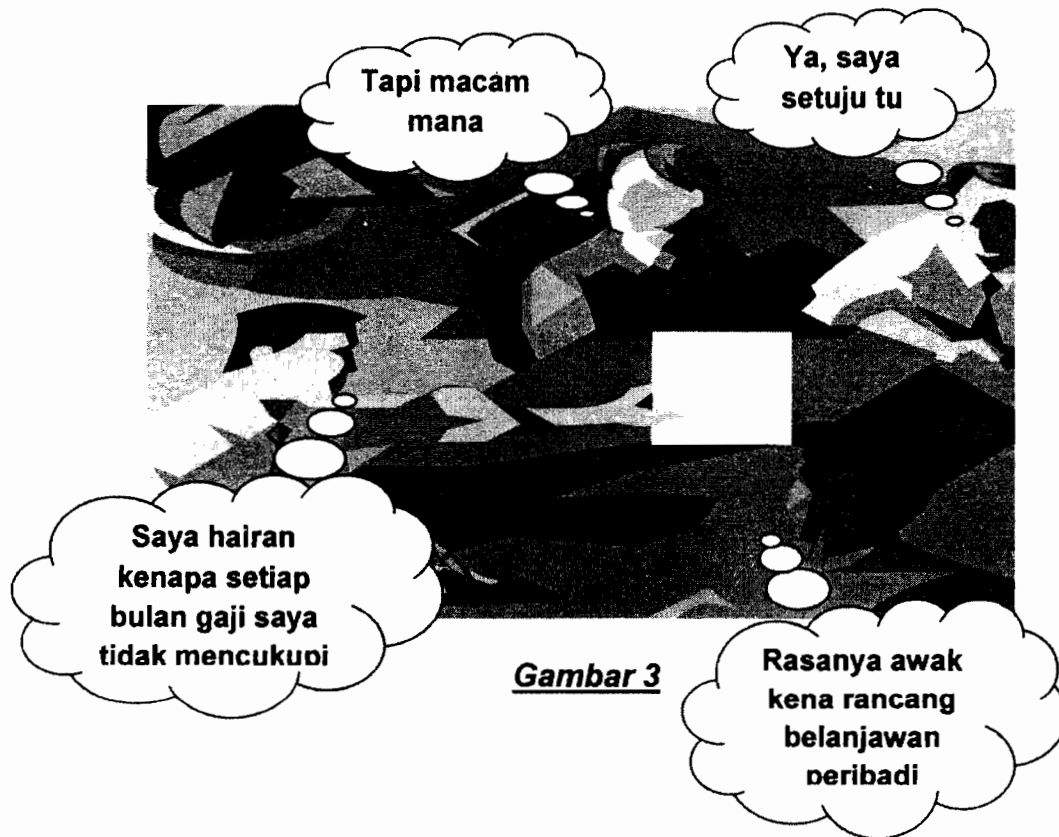
<u>Pendapatan dan perbelanjaan</u>	<u>RM</u>
Gaji	36 000
Bonus	2 000
Caruman KWSP 11% daripada gaji	11%
Premium insurans nyawa	1 200
Buku dan majalah	300
Bayaran zakat	500
<u>Pelepasan cukai yang dibenarkan</u>	<u>RM</u>
Diri sendiri	8 000
Isteri	3 000
Anak (seorang)	1 000
KWSP & insurans nyawa(maksimum)	6 000
Buku dan majalah(maksimum)	500
<u>Kadar cukai</u>	
RM 2 500 pertama	0%
RM 2 500 kedua	2%
RM 5 000 berikutnya	5%
RM 10 000 berikutnya	7%

Hitungkan

- (i) Jumlah cukai pendapatan yang perlu dibayar oleh Encik Muaz bagi tahun 2009.
[6 markah]
- (ii) Jumlah pendapatan boleh guna Encik Muaz bagi tahun 2009.
[3 markah]

[Lihat sebelah]

- 2 Gambar 3 menunjukkan perbincangan tentang belanjawan peribadi.



- (a) Pada pandangan anda, bagaimanakah merancang belanjawan peribadi yang betul? [6 markah]

- (b) Jadual 1 menunjukkan peratus perubahan kuantiti diminta dan peratus perubahan harga barang Q, R, dan S.

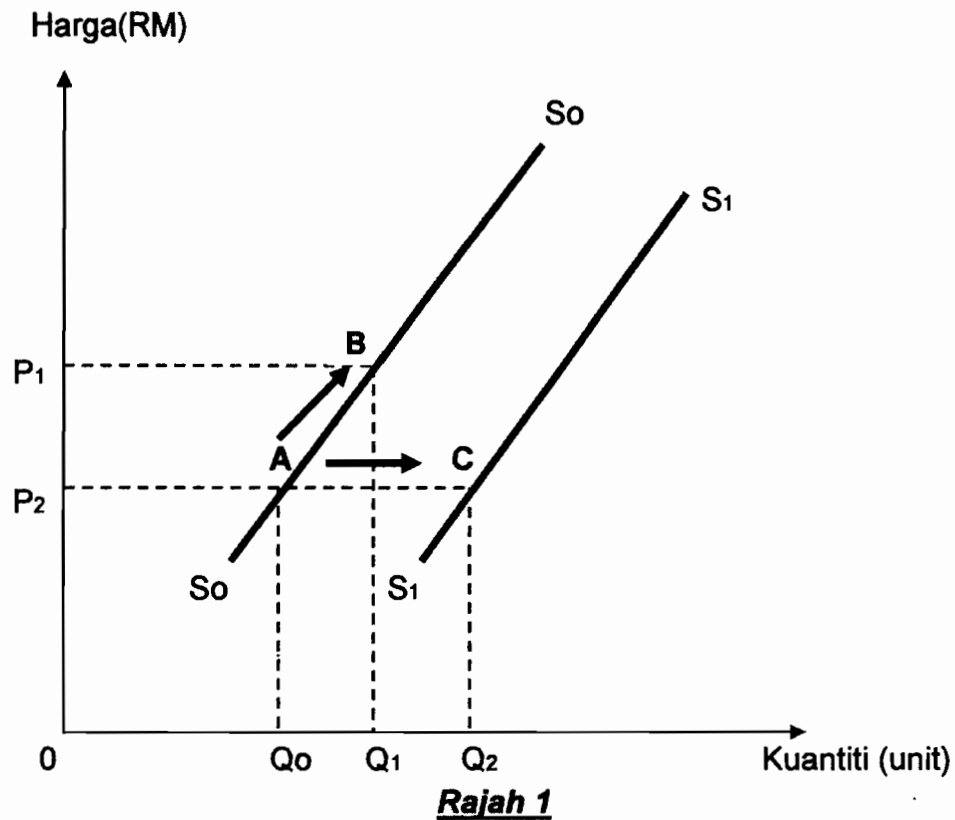
Jenis barang	Peratus perubahan kuantiti diminta	Peratus perubahan harga
Q	45	30
R	20	20
S	15	30

Jadual 1

- (i) Hitungkan nilai keanjalan harga permintaan bagi setiap barang.
[3 markah]
- (ii) Berdasarkan b(i) terangkan strategi yang boleh diambil oleh pengeluar untuk memaksimumkan keuntungan bagi barang Q **atau** barang S.
[3 markah]

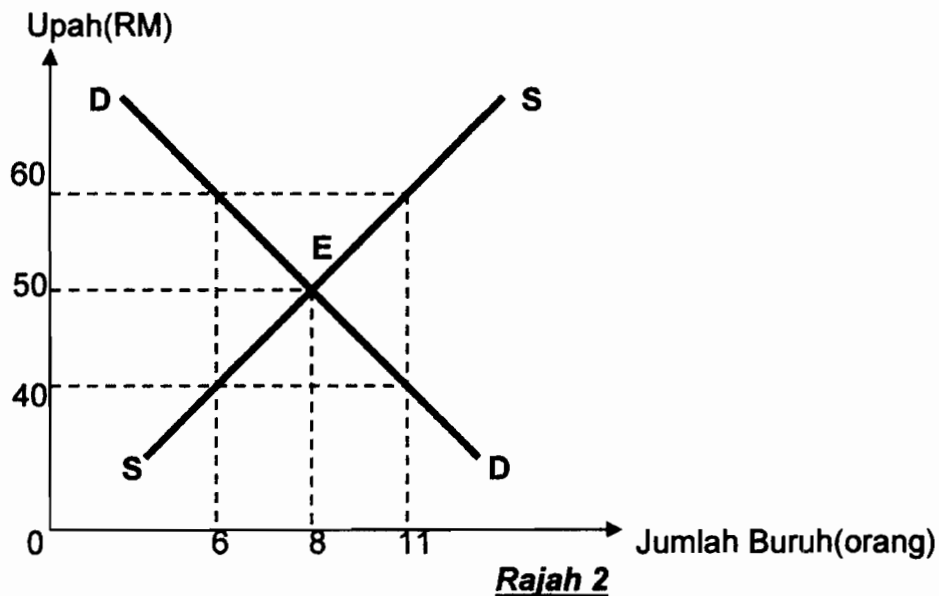
[Lihat sebelah

- (c) Rajah 1 menunjukkan keluk penawaran kereta tempatan oleh Syarikat XYZ.



- (i) Nyatakan maksud perubahan dari titik A ke titik B dan dari titik A ke titik C dalam rajah di atas. [2 markah]
- (ii) Huraikan perubahan dari titik A ke titik B dan dari titik A ke titik C. [5 markah]
- (iii) Terangkan **tiga** faktor yang menyebabkan perubahan dari titik A ke titik C. [6 markah]

- 3 (a) Berikan maksud pasaran. [2 markah]
- (b) Jelaskan perbezaan antara permintaan pasaran barang dengan penawaran pasaran barang. [6 markah]
- (c) Berikut ialah tiga situasi yang berasingan. Jelaskan kesan ke atas pasaran kereta bagi setiap situasi berikut.
- (i) Kakitangan kerajaan menerima kenaikan gaji bulanan. [2 markah]
 - (ii) Perkhidmatan pengangkutan awam lebih cekap. [2 markah]
 - (iii) Peningkatan teknologi terkini dalam pembuatan kereta. [2 markah]
- (d) Rajah 2 menunjukkan keseimbangan pasaran buruh.



Bagaimanakah keseimbangan pasaran buruh dalam rajah dicapai? [6 markah]

- (e) Nyatakan lima ciri wang yang baik. [5 markah]

[Lihat sebelah

- 4 (a) Bezakan dua ciri syarikat insurans konvensional dengan syarikat insurans takaful. [4 markah]
- (b) Terangkan tiga fungsi bank pusat sebagai jurubank kepada kerajaan. [6 markah]
- (c) Terangkan perkhidmatan arahan bank dalam membuat dan menerima bayaran bagi pihak pelanggan. [4 markah]
- (d) Berikut merupakan dua institusi kewangan

ABC BANK BERHAD

**ABC MERCHANT BANKERS
BERHAD**

Jelaskan perbezaan perkhidmatan yang disediakan oleh institusi kewangan di atas. [6 markah]

- (e) Jadual 3 menunjukkan peratus sumbangan sektor ekonomi kepada guna tenaga Malaysia dari tahun 2000 hingga tahun 2008.

Tahun Sektor	Peratus Sumbangan Sektor Ekonomi Kepada Guna Tenaga Malaysia				
	2000	2002	2004	2006	2008
Sektor Utama	61.3	53.1	38.5	28.4	15.6
Sektor Kedua	9.8	15.4	20.1	25.9	35.7
Sektor Ketiga	28.9	31.5	39.5	45.7	48.7

Nyatakan lima kesan daripada perubahan tersebut. [5 markah]

- 5 (a) Nyatakan sebab kerajaan membuat pinjaman dalam negeri dan pinjaman luar negeri? [4 markah]
- (b) Gambar 4 menunjukkan pidato piala diraja tentang cabaran ekonomi negara.



Gambar 4

Sebagai individu yang rasional, mengapakah negara kita masih perlu meneruskan kegiatan perdagangan antarabangsa? [6 markah]

- (c) Jadual 4 menunjukkan kadar pertukaran Ringgit Malaysia berbanding dengan setiap Dollar Amerika Syarikat dan setiap Dollar Singapura.

Mata Wang	US\$1.00	S\$1.00
Bulan		
Jun	RM3.25	RM2.27
Disember	RM2.86	RM2.44

Jadual 4

- (i) Huraikan kesan perubahan kadar pertukaran tersebut ke atasimbangan perdagangan Malaysia dengan kedua-dua negara tersebut. [4 markah]
- (ii) Jika warga Amerika Syarikat ingin melabur sebanyak RM50 000 di Malaysia pada bulan Jun, berapakah Dollar Amerika Syarikat perlu disediakan untuk memenuhi tujuan tersebut? [2 markah]
- (iii) Jika peniaga Malaysia berhutang sebanyak US\$75 000 daripada pembekal Amerika Syarikat pada bulan Jun dan menjelaskan hutangnya pada bulan Disember, apakah kesannya kepada peniaga tersebut? [3 markah]
- (iv) Pada pandangan anda, mengapakah pertukaran asing penting kepada negara Malaysia walaupun telah mempunyai mata wang sendiri? [6 markah]

Bahagian B

Bahagian ini wajib dijawab.

- 6 Pada awal tahun 2007, Cik Suraini telah menamatkan latihan sebagai pembantu makmal. Sekarang beliau bekerja sebagai pembantu makmal di SMK Jalan Lencong Barat. Cik Suraini tinggal serumah dengan Cik Haslin yang bekerja sebagai operator pengeluaran di sebuah firma di Alor Setar. Pendapatan bulanan yang diterima oleh Cik Suraini ialah RM1 100.00, manakala Cik Haslin memperoleh pendapatan sebanyak RM1 560.00 sebulan.

Pada masa itu, harga barang masih murah dan kehidupan mereka agak selesa. Sekarang tahun 2010, boleh dikatakan hampir keseluruhan harga barang telah meningkat begitu mendadak. Keadaan ini digambarkan dalam jadual di bawah:

Tahun	Tingkat Harga Umum		
	Barang A	Barang B	Barang C
2007	RM1.50	RM3.50	RM1.20
2008	RM2.50	RM5.90	RM1.30
2010	RM3.30	RM7.50	RM1.50

Gaji bulanan mereka dijangka tidak akan berubah dalam jangka masa lima tahun akan datang. Disebabkan kos sara hidup semakin meningkat, mereka bercadang membuka perniagaan bersama untuk menambah pendapatan. Namun begitu, mereka menghadapi masalah kewangan untuk memulakan perniagaan. Bagi mengatasinya, mereka bercadang untuk membuat pinjaman daripada institusi kewangan.

Sementara itu, senario ekonomi negara berada dalam keadaan pengangguran yang tinggi. Bagi mengatasinya, kerajaan bercadang untuk meningkatkan perbelanjaan khususnya perbelanjaan pembangunan bagi merancakkan kegiatan ekonomi, di samping menghapuskan beberapa cukai tertentu. Dengan tindakan ini diharap peluang pekerjaan dan pendapatan boleh guna isi rumah akan meningkat. Kerajaan telah membentangkan belanjawan defisit dengan hanya menggunakan sumber dalam negeri untuk menampung belanjawan tersebut.

[Lihat sebelah

Berdasarkan kes, jawab soalan-soalan berikut:

- (a) (i) Nyatakan sektor ekonomi bagi pekerjaan Cik Suraini dan Cik Haslin
[2 markah]
- (ii) Hitung upah benar Cik Haslin bagi tahun 2007 dan tahun 2010. Nyatakan rumusan anda tentang upah benar Cik Haslin
[3 markah]
- (b) (i) Bagaimana Cik Suraini dan Cik Haslin dapat menambahkan pendapatan selain membuka perniagaan.
[6 markah]
- (ii) Nyatakan sumber pinjaman lain yang boleh diperolehi untuk membuka perniagaan bersama.
[4 markah]
- (c) Apakah situasi ekonomi yang berlaku? Adakah anda bersetuju dengan langkah-langkah kerajaan. Berikan alasan anda.
[5 markah]
- (d) Terangkan langkah yang perlu diambil oleh kerajaan untuk menampung belanjawan pada tahun 2009.
[5 markah]

KERTAS SOALAN TAMAT

Skema Pemarkahan
3757/1
Ekonomi Asas
Kertas 1
Ogos-Sept.

No.Soalan	Jawapan	No.Soalan	Jawapan
1	C	21	B
2	B	22	D
3	A	23	B
4	A	24	A
5	B	25	C
6	C	26	D
7	D	27	C
8	B	28	C
9	A	29	B
10	D	30	D
11	B	31	D
12	D	32	C
13	C	33	A
14	A	34	C
15	B	35	D
16	D	36	C
17	B	37	A
18	C	38	D
19	A	39	C
20	A	40	B

Soalan	Ekonomi Asas 2 / Jawapan	Markah
1(a)(i)	F1-Kekurangan	1
	H1-Faktor-faktor ekonomi/sumber-sumber ekonomi	1
	F2-Pilihan	1
	H2-Mengeluarkan barangan/output yang memberi keuntungan maksimum	1
	F3-Kos lepas	1
	H3-Ouput/barangan kedua terbaik yang dilepaskan untuk mendapat barangan/ouput terbaik/ alat penghawa dingin	1
		[mak 4 m]
1(a)(ii)	F1-Berapa yang hendak dikeluarkan	1
	H1-Jumlah/kuantiti ketuhar yang hendak dikeluarkan bergantung kepada permintaan masyarakat/mekanisme harga/keperluan dan kehendak.	1
	F2-Bagaimana hendak dikeluarkan	1
	H2-Kaedah intensif buruh atau modal/paling cekap/meminimumkan kos/memaksimumkan untung.	1
	F3-Untuk siapa dikeluarkan	1
	H3-Agihan ouput/barang/ketuhar bergantung kepada corak agihan pendapatan wang/kemampuan membeli.	1
		[mak 4 m]
1(b)(i)	Gambar 1 – Sistem Ekonomi Kapitalis/Pasaran bebas	1
	Gambar 2 – Sistem Ekonomi Perancangan Pusat/Sosialis	1
		[2 m]

Soalan	Jawapan			Markah
	Ciri	Kapitalis	Sosialis	
1(b)(ii)	B1-Pemilikan sumber	Bebas dimiliki oleh pihak swasta/individu	Milik penuh kerajaan	2/0
	B2-Pembuat keputusan	Keputusan ekonomi dibuat oleh pengguna/pengeluar/swasta	Keputusan ekonomi dibuat oleh kerajaan	2/0
	B3-Pilihan	Pengguna/pengeluar bebas membuat keputusan	Kerajaan menentukan pilihan barangan	2/0
	B4-Penentuan harga	Ditentukan oleh mekanisme harga/ditentukan oleh permintaan dan penawaran	Harga barang ditetapkan oleh kerajaan	2/0
	B5-Persaingan	Pengeluar bebas bersaing	Tiada persaingan antara pengeluar	2/0
	B6-Motif Pengeluaran	Keuntungan maksimum	Memaksimumkan kebajikan rakyat	2/0
	Mana-mana 3 X 2m			[6m] [mak 6m]

Soalan	Jawapan	Markah
1(c)(i)	Jumlah Pendapatan Encik Muaz Setahun	
	RM	
	Gaji 36 000	½
	Bonus 2 000	½
	Jumlah Pendapatan 38 000	1
	<u>Tolak Pelepasan</u>	
	Diri sendiri 8 000	½
	Isteri 3 000	½
	Anak(1 000 X 3 orang) 3 000	½
	KWSP(RM3 960) & Insurans nyawa(RM 1 200) 5 160	½
	Buku & Majalah 300	½
	Jumlah Pelepasan Cukai 19 460	½
	Pendapatan Bercukai (RM38 000 – RM19 460) = RM18 540	1
	Pengiraan Cukai	
	RM 2 500 pertama (0% X 2500) = RM0.00	½
	RM 2 500 kedua (2% X 2 500) = RM50.00	½
	RM 5 000 berikutnya (5% X 5 000) = RM250.00	½
	RM8 540 berikutnya (7% X 9 460) = RM597.80	½
	Jumlah Cukai Pendapatan Setahun = RM897.80	½
	Tolak Zakat = RM5 00.00	½
	Jumlah Cukai perlu dibayar = RM397.80	1
		[10m] [mak 6m]
1(c)(ii)	R1-Jumlah pendapatan – Potongan wajib	1
	Gaji RM36 000	
	Bonus RM2 000	
	Jumlah pendapatan RM38 000	1
	Toloh : Potongan wajib	
	KWSP RM3 960.00	
	Cukai pendapatan RM397.80	
	Bayaran zakat RM500.00	
	Jumlah potongan RM4 857.80	1
	Pendapatan boleh guna RM33 142.20	1
		[4m] [mak 3m]

Soalan	Jawapan	Markah
2(a)	<p>F1-kenalpasti punca pendapatan dan potongan wajib</p> <p>H1-jumlahkan semua pendapatan dan tolak potongan wajib</p> <p>F2-catat semua perbelanjaan yang perlu dilakukan</p> <p>H2-termasuk perbelanjaan tetap/harian/luar jangka</p> <p>F3-susun perbelanjaan ikut keutamaan</p> <p>H3-utamakan perbelanjaan yang perlu/perbelanjaan kurang penting ditangguhkan</p> <p>F4-imbang anggaran pendapatan dan perbelanjaan</p> <p>H4-pastikan pendapatan boleh guna melebihi perbelanjaan/tabungan</p> <p>Nota: Jawapan perlu mengikut urutan</p>	<p>1</p> <p>1</p> <p>1</p> <p>1</p> <p>1</p> <p>1</p> <p>1</p> <p>1</p> <p>[8m] [mak 6m]</p>

Soalan	Jawapan	Markah
2(b)(i)	Barang Q = 1.5 Barang R = 1 Barang S = 0.5	1 1 1 [3m]
2(b)(ii)	Barang Q H1a-turunkan harga H2a-permintaan anjal/ $E_d > 1$ H3a-peratus perubahan kuantiti diminta melebihi peratus perubahan harga H4a-harga turun 1% kuantiti diminta naik 1.5% ATAU Barang S H1b-naikkan harga H2b-permintaan tidak anjal/ $E_d < 1$ H3b-peratus perubahan kuantiti diminta kurang daripada peratus perubahan harga H4b-harga naik 1% kuantiti diminta turun 0.5%	1 1 1 1 [4m] [mak 3m] 1 1 1 1 [4m] [mak 3m]
2(c)(i)	Dari titik A ke titik B H1-perubahan dalam kuantiti ditawarkan Dari titik A ke titik C H2-perubahan penawaran	1 1 [2m]

Soalan	Jawapan	Markah
2(c)(ii)	Dari titik A ke titik B	
	H1-Pergerakan atas keluk penawaran yang sama	1
	H2-harga meningkat dari P_2 kepada P_1	1
	H3-kuantiti penawaran meningkat dari Q_0 kepada Q_1	1
	H4-berlaku disebabkan faktor harga barang itu	1
		[mak 3m]
	Dari titik A ke titik C	
	H5-berlaku peralihan keluk dari S_0S_0 kepada S_1S_1	1
2(c)(iii)	H6-harga tetap pada P_2 /harga tidak berubah	1
	H7-Kuantiti penawaran bermula pada Q_0 Q_2	1
	H8-berlaku disebabkan faktor selain harga barang itu	1
		[mak 3m]
		[6m]
	F1-harga barang lain/pengganti/penggenap	1
	H1-apabila harga petrol jatuh, penawaran kereta akan bertambah	1
	F2-harga faktor pengeluaran	1
	H2-apabila harga faktor pengeluaran jatuh, penawaran kereta bertambah	1
	F3-Jangkaan harga pada masa depan	1
	H3-harga kereta dijangka jatuh pada masa depan, penawaran kereta pada masa kini meningkat	1
	F4-Dasar kerajaan	1
	H4-cukai jualan diturunkan/memberi subsidi, penawaran kereta bertambah	1
	F5-matlamat pengeluar	1
	H5-memaksimumkan pengeluaran/menguasai pasaran, penawaran kereta bertambah	1
	F6-tingkat teknologi	1
	H6-berlaku penggunaan teknologi moden, penawaran kereta meningkat	1
	Mana-mana 3 X 2m	[12m] [mak 6m]

Soalan	Jawapan	Markah												
3(a)	H1-keadaan/tempat penjual dan pembeli bertemu untuk berurusniaga	1												
	H2-secara langsung/di pasar raya/kedai runcit	1												
	H3-tidak langsung/telefon/e-dagang/myeg/internet	1												
	H4-melibatkan jual beli barang/perkhidmatan	1												
		[4m] [mak 2m]												
3(b)	<table><tr><th>Permintaan Pasaran</th><th>Penawaran Pasaran</th></tr><tr><td>H1a-Jumlah permintaan semua individu dalam pasaran</td><td>H1b-Jumlah penawaran semua firma dalam pasaran</td></tr><tr><td>H2a-Keluk permintaan pasaran diperolehi dengan menjumlahkan kuantiti DD yang dilakukan oleh semua individu secara mendatar pada suatu tingkat harga tertentu</td><td>H2b-Keluk penawaran pasaran diperolehi dengan menjumlahkan kuantiti SS yang dilakukan oleh semua firma secara mendatar pada suatu tingkat harga tertentu</td></tr><tr><td>H3a-Keluk permintaan pasaran mencerun kebawah dari kiri kekanan</td><td>H3b-Keluk penawaran pasaran mencerun ke atas dari kiri kekanan</td></tr><tr><td>H4a-Jika harga meningkat kuantiti permintaan pasaran akan jatuh</td><td>H4b-Jika harga meningkat kuantiti penawaran pasaran akan meningkat</td></tr><tr><td>H5a-Hubungan harga dengan kuantiti adalah secara songsang</td><td>H5b-Hubungan harga dengan kuantiti adalah secara positif</td></tr></table>	Permintaan Pasaran	Penawaran Pasaran	H1a-Jumlah permintaan semua individu dalam pasaran	H1b-Jumlah penawaran semua firma dalam pasaran	H2a-Keluk permintaan pasaran diperolehi dengan menjumlahkan kuantiti DD yang dilakukan oleh semua individu secara mendatar pada suatu tingkat harga tertentu	H2b-Keluk penawaran pasaran diperolehi dengan menjumlahkan kuantiti SS yang dilakukan oleh semua firma secara mendatar pada suatu tingkat harga tertentu	H3a-Keluk permintaan pasaran mencerun kebawah dari kiri kekanan	H3b-Keluk penawaran pasaran mencerun ke atas dari kiri kekanan	H4a-Jika harga meningkat kuantiti permintaan pasaran akan jatuh	H4b-Jika harga meningkat kuantiti penawaran pasaran akan meningkat	H5a-Hubungan harga dengan kuantiti adalah secara songsang	H5b-Hubungan harga dengan kuantiti adalah secara positif	2/0
	Permintaan Pasaran	Penawaran Pasaran												
	H1a-Jumlah permintaan semua individu dalam pasaran	H1b-Jumlah penawaran semua firma dalam pasaran												
	H2a-Keluk permintaan pasaran diperolehi dengan menjumlahkan kuantiti DD yang dilakukan oleh semua individu secara mendatar pada suatu tingkat harga tertentu	H2b-Keluk penawaran pasaran diperolehi dengan menjumlahkan kuantiti SS yang dilakukan oleh semua firma secara mendatar pada suatu tingkat harga tertentu												
	H3a-Keluk permintaan pasaran mencerun kebawah dari kiri kekanan	H3b-Keluk penawaran pasaran mencerun ke atas dari kiri kekanan												
	H4a-Jika harga meningkat kuantiti permintaan pasaran akan jatuh	H4b-Jika harga meningkat kuantiti penawaran pasaran akan meningkat												
	H5a-Hubungan harga dengan kuantiti adalah secara songsang	H5b-Hubungan harga dengan kuantiti adalah secara positif												
	2/0													
	2/0													
	2/0													
	2/0													
	2/0													
	2/0													
Nota: perlu berpasangan Mana-mana 3 Fakta X 2 Huraian		[10m] [6m]												

Soalan	Jawapan	Markah
3(c)(i)	H1-DD kereta naik / lebih DD kereta H2-SS kereta tidak berubah H3-Harga kereta naik	1 1 1 [mak 2m]
3(c)(ii)	H4-DD perkhidmatan awam meningkat H5-DD kereta turun / lebih SS kereta H6-Harga kereta turun	1 1 1 [mak 2m]
3(c)(iii)	H7-SS kereta naik / lebih SS kereta H8-DD kereta tidak berubah H9-Harga kereta jatuh	1 1 1 [mak 2m]
3(d)	H1-pada upah RM40 wujud lebih permintaan buruh H2-sebanyak 5 orang/terima kiraan H3-upah buruh cenderung meningkat sehingga ke titik E H4-pada upah RM60 wujud lebih penawaran buruh H5-sebanyak 5 orang/terima kiraan H6-upah cenderung jatuh sehingga ke titik E H7-Keseimbangan dicapai pada titik E/harga upah yang adil kepada isi rumah dan firma	1 1 1 1 1 1 1 [7m] [mak 6m]
3(e)	F1-diterima umum F2-penawaran terhad F3-tahan lama F4-mudah dibawa F5-mudah dibahagi F6-mudah dikenali F7-nilai yang stabil F8-keseragaman	1 1 1 1 1 1 1 1 [8m] [mak 5m]

Soalan	Jawapan			Markah
4(a)	Item perbandingan	Syarikat Takaful	Insurans Konvensional	
	Kawalan Perniagaan	H1a-Akta Takaful 1984	H1b-BNM.Akta Insurans 1993/1996	2/0
	Pengawasan Perkhidmatan	H2a-Majlis Pengawasan Syariah &BNM	H2b-Bank Negara Malaysia	2/0
	Perkhidmatan	H3a-Takaful keluarga dan takaful am	H3b-Insuran Nyawa dan Insurans am	2/0
	Pelaburan Dana	H4a-Sijil pelaburan	H4b-Surat jaminan kerajaan dan sekurit korporat	2/0
	Pinjaman	H5a-Tiada perkhidmatan pinjaman	H5b-Pemegang polisi insurans nyawa	2/0
	Nota: Perlu berpasangan Mana-mana 2 X 2m			[10m] [4m]
4(b)	F1- Mentadbir akaun kerajaan pusat /kerajaan negeri / badan berkanun			1
	H1-menerima deposit seperti cukai dan hasil-hasil lain bagi pihak kerajaan/ membuat bayaran bagi jabatan-jabatan kerajaan dengan mengeluarkan cek/gaji kakitangan/projek			1
	F2- Mengurus hutang negara jika hasil kerajaan kerajaan tidak mencukup			1
	H2a-bertanggungjawab memperoleh pinjaman bagi pihak kerajaan dari sumber dlm/ luar negeri			1
	H2b-menjual bil-nil perbendaharaan /surat jaminan kerajaan/sijil pelaburan/bon kerajaan			1
	F3- Menyediakan pendahuluan sementara apabila hasil kerajaan kurang daripada perbelanjaan tahunannya			1
	H3-jika kerajaan kekurangan kewangan, bank pusat /bank negara akan memberikan pendahuluan sementara kepada kerajaan			1
	F4- Menguruskan pertukaran asing			1
	H4- menjamin kestabilan nilai matawang negara di pasaran pertukaran asing			1
	F5- Menawarkan khidmat nasihat pelaburan			1
	H5- bank pusat akan mengkaji cadangan/projek pelaburan kerajaan yang hendak dilakukan diluar negeri /seterusnya memberikan nasihat yang perlu kepada kerajaan/penasihat			1

	kerajaan	[10]
	Mana-mana 3 Fakta + 3 Huraian	[6m]

Soalan	Jawapan	Markah
4(c)	F1- Perintah Sedia Ada	1
	H1a- oleh pemegang akaun kepada bank untuk membuat bayaran tetap yang berulang pada tarikh yang ditetapkan	1
	H1b- bayaran sewa,premium insuran,bayaran sewa beli,bayaran pinjaman	1
	F2- Debit Langsung	1
	H2a- Arahan kepada bank untuk membayar bil-bil tanpa mengambil kira amuannya apabila masa membayar bil tersebut sudah tiba/mendebitkan secara automatik terdapat akaun pendeposit	1
	H2b- Contoh- membayar bil telefon,elektrik,air	1
	F3- Pindahan kredit	1
	H3a- Bank perdagangan membuat bayaran terus ke dalam akaun penerima/ memindahkan wang daripada akuananya kepada akaun pihak lain	1
	H3b-mengkredit gaji,bonus,komisen,tuntutan perubatan pekerja dan sebagainya	1
		[9m]
	Mana-mana 2 Fakta + 2 Huraian	[4m]

Soalan	Jawapan			Markah
4(d)	Aspek Perbezaan	ABC Bank Berhad	ABC Merchant Bankers Berhad	
	Jenis	F1- Bank Perdagangan	F2- Bank saudagar	2/0
	Deposit	H1a- Menerima deposit tabungan, semasa dan tetap daripada individu dan firma	H2a- Menerima deposit tetap daripada syarikat korporat	2/0
	Pinjaman	H1b- Memberi pinjaman kepada individu dan firma	H2b- Memberi pinjaman bersindiket kepada syarikat besar	2/0
	Khidmat nasihat	H1c- Memberi khidmat nasihat kewangan, pelaburan dan pengurusan hutang kepada individu dan firma	H2c- Memberi khidmat nasihat berkenaan pengurusan berportfolio	2/0
	Perkhidmatan lain	H1d- Perkhidmatan kad kredit	H2d- Menanggung jamin terbitan syer syarikat ke BSM	2/0
	Mana-mana 3 X 2m			[10m] [6m]
4(e)	F1 – Kemasukan banyak pelabur asing F2 – Banyak kilang dibangunkan F3 – Meningkatkan permintaan terhadap perkhidmatan F4 – Mewujudkan peluang pekerjaan yang banyak F5 – Pendapatan negara meningkat F6 – Meningkatkan taraf hidup penduduk			1 1 1 1 1 1 [6m] [mak 5m]

Soalan	Jawapan	Markah
5(a)	F1-Menampung kekurangan dalam belanjawan negara	1
	F2-Membiayai projek pembangunan	1
	F3-Menampung perbelanjaan mengurus	1
	F4-Mengagih pendapatan melalui projek-projek tertentu	1
		[4m]
5(b)	F1-Mendapat barang dari luar negeri	1
	H1-Faktor alam semula jadi berbeza/sukar didapati dalam pasaran negara/contoh barang/kurma/unta/yang sesuai	1
	F2-Mendapat barang lebih murah	1
	H2-Mengalakkan pengkhususan/sesetengah barang lebih murah diimport dari luar negara	1
	F3-Memperluaskan pilihan pengguna	1
	H3-Pengguna mempunyai kehendak yang berbeza/meningkatkan kebajikan pengguna	1
	F4-Memperluaskan pasaran	1
	H4-Lebihan pengeluaran barangan industri tempatan dapat dieksport ke luar negara/meningkatkan jumlah pendapatan/keuntungan pengeluar tempatan	1
	F5-Menggalakkan penggunaan teknologi baru	1
	H5-Membolehkan pengeluar dalam Negara mengimport barangan modal/meningkatkan daya pengeluaran industri tempatan	1
	F6-Mewujudkan peluang pekerjaan	1
	H6-Mewujudkan kemasukan pelabur asing/mengurangkan pengangguran dalam Negara/meningkatkan taraf hidup	1
	F7-Meningkatkan hasil/pendapatan negara	1
	H7-Melalui eksport/cukai import/cukai eksport	1
	Mana-mana 3 Fakta + 3 Huraian	[14m] [mak 6m]

Soalan	Jawapan	Markah
5(c)(i)	<u>Singapura</u>	
	F1 – Nilai RM jatuh	1
	F2 – Eksport Malaysia ke Singapura meningkat	1
	F3 – Import Malaysia dari Singapura berkurang	1
	F4 – Permintaan barang eksport Malaysia meningkat	1
	F5 – Permintaan import berkurangan	1
	F6 – Harga barangan eskport Malaysia di Singapura murah	1
	F7 – Harga barangan import dari Singapura mahal	1
	F8 – Imbangan dagangan Malaysia dengan Singapura positif	1
		[Max 2M]
	<u>Amerika Syarikat</u>	
	F9 – Nilai RM naik	1
	F10 – Eskport Malaysia ke Amerika berkurang	1
	F11 – Import Malaysia dari Amerika meningkat	1
	F12 – Permintaan barang eksport Malaysia berkurang	1
	F13 – Permintaan import meningkat	1
	F14 – Harga barangan eskport Malaysia di Amerika mahal	1
	F15 – Harga barangan import dari Amerika murah	1
	F16 – Imbangan dagangan Malaysia dengan Amerika negatif	1
	Jumlah	[Max 2M] [4M]
5(c)(ii)	US\$1 = RM3.25	
	= RM50 000/RM3.25 X US\$1	1
	= US\$15 384.61	1 [2M]
5(c)(iii)	Pinjaman Bulan Jun RM3.25 = US\$1 = US\$75 000 X RM3.25/ US\$1/ = RM243 750	1
	Bayar pada Disember RM2.86 = US\$1 = US\$75 000 X RM2.86/ US\$1/ = RM214 500	1
	Kesan :	
	Peniaga Malaysia membayar hutang kurang dalam ringgit Malaysia/lebih menguntungkan peniaga Malaysia/beban hutang peniaga Malaysia berkurang/RM29 250	1

		[3M]
--	--	------

Soalan	Jawapan	Markah
5(c)(iv)	F1-Membolehkan Malaysia mengimport barangan asing	1
	H1-Malaysia mengimport barang dari Singapura dan bayaran perlu dibuat dalam mata wang Singapura.	1
	F2-Membolehkan Malaysia membayar hutang luar Negara	1
	H2-Malaysia meminjam wang dari Amerika Syarikat, Malaysia perlu membayar balik pinjaman dalam Dolar Amerika.	1
	F3-Membolehkan penduduk Malaysia melabur di luar negara	1
	H3-Rakyat Malaysia memerlukan mata wang Singapura/Amerika Syarikat jika ingin melabur di Singapura/Amerika Syarikat	1
	F4-Mengawal Rizab Asing	1
	H4-Mengukuhkan nilai Ringgit Malaysia	1
	Mana-mana 3 Fakta + 3 Huraian	[6M]
6(a)(i)	F1-sektor ketiga/perkhidmatan	1
	F2-sektor kedua/perkilangan	1
		[2m]
6(a)(ii)	Tahun 2007 RM1560/RM2.07 753.62 unit/753 unit	1
	Tahun 2010 RM1560/RM4.10 380.48 unit/381 unit	1
	Upah benar Cik Haslin tahun 2010 berkurangan berbanding tahun 2007/kuasa beli Cik Haslin tahun 2010 berkurangan berbanding 2007/ kenaikan tingkat harga yang besar berbanding tingkat upah wang menyebabkan upah benar jatuh/jumlah barang yang boleh dibeli pada tahun 2010 semakin berkurang	1
		[3m]

Soalan	Jawapan	Markah
6(b)(i)	F1-membuat tabungan	1
	H1a-dibank perdagangan/institusi kewangan	1
	H1b-dapat faedah/dividen	1
	F2-membeli saham amanah	1
	H2a-contoh Amanah Saham Berhad/ASW/1Malaysia/ASN	1
	H2b-dapat dividen	1
	F3-membeli harta tetap	1
	H3a-membeli tanah/rumah	1
	H3b-dapat sewa/jual pada harga mahal dapat untung	1
		[9m]
	Mana-mana 2 X 3m	[6m]
6(b)(ii)	F1-pinjaman bercagar	1
	H1-bank perdagangan/bank Islam	1
	F2-pinjaman perusahaan	1
	H2-syarikat kewangan	1
	F3-pinjaman perniagaan	1
	H3-agensi kerajaan/MARA/AIM/TEKUN	1
		[6m]
	Mana-mana 2 Fakta + 2 Huraian	[mak 4m]
6(c)	H1-kemelesetan ekonomi/deflasi	1
	H2-bersetuju	1
	H3-penawaran wang di pasaran meningkat	1
	H4-peluang pekerjaan meningkat	1
	H5-kuasa beli pengguna meningkat	1
	H6-stok barangan firma akan berkurangan	1
	H7-tingkat pelaburan meningkat	1
		[7m] [mak 5m]

Soalan	Jawapan	Markah
6(d)	F1-menjual bil-bil perbendaraan	1
	H1a-Satu bentuk pinjaman jangka pendek, kurang setahun	1
	H1b-Menjual bil perbendaharaan kepada orang ramai, bank dan syarikat diskaun	1
	H1c-Menjual pada harga kurang daripada harga muka	1
	F2-menjual surat jaminan kerajaan atau bon	1
	H2a-bentuk pinjaman jangka panjang atau lebih setahun	1
	H2b-dijuali kepada KWSP/ bank perdagangan/ syarikat insurans/ orang ramai	1
	H2c-Kerajaan menjual surat jaminan kerajaan pada nilai muka dan dibayar faedah apabila matang	1
	F3-menjual sijil pelaburan	1
	H3a-kerajaan menjual sijil pelaburan kepada institusi kewangan Islam	1
	H3b-pemegang sijil dibayar dividen	1
		[11m]
		[mak 5m]