




## الأسئلة

### أولاً الجغرافيا

س ١ : أكمل ما يلى :

- (١) الدول العربية جميعها يجمعها ..... وتاريخ مشترك .
- (٢) يقع الوطن العربى بين قارات ..... ويمتد أراضيه فى قارتى ..... و .....
- (٣) يشرف الوطن العربى على محيطين هما المحيط ..... والمحيط .....
- (٤) الدول العربية التى تقع خارج النطاق الفلكى للوطن العربى هى دولة ..... تقع ..... خط الاستواء عند دائرة عرض ..... فى المحيط الهندى شمال جزيرة ..... عند مضيق .....
- (٥) من أهم الحضارات فى الوطن العربى الحضارة ..... فى مصر وبلاد ..... بالعراق .
- (٦) من الدول التى لم تحصل على استقلالها ..... ومن المدن المغريبه ..... و .....
- (٧) عوامل تشكيل سطح الأرض فى الوطن العربى تنقسم إلى عوامل ..... و .....
- (٨) من العوامل الباطنية التى شكلت سطح الوطن العربى ..... و ..... و .....
- (٩) تمتد جبال أطلس من الغرب إلى الشرق فى دول ..... و ..... و .....
- (١٠) تتحصر بين جبال أطلس التل فى الشمال وأطلس الصحراء فى الجنوب .....



١١) تعرف جبال البحر الأحمر فى السعودية .....

.....

١٢) من الجبال الإنكسارية .....

١٣) من الهضاب الناشئة نتيجة ثورات بركانية .....

١٤) أكبر الظواهرات التضاريسية مساحة فى الجانب الأفريقى .....

١٥) من أمثلة الهضاب فى الجناح الاسيوى فى شبه الجزيرة العربية .....

..... و .....

١٦) من العوامل المؤثرة فى مناخ الوطن العربى .....

.....

## س ٢ : ضع علامة (✓) أو علامة (x) مع التصويب:

- ١) يمتد الوطن العربى فى ٧٦ خط طول . ( )
- ٢) جزر القمر من الدول العربية الأسيوية . ( )
- ٣) جبال طوروس من الحدود الشمالية للوطن العربى . ( )
- ٤) يصل مضيق هرمز بين البحر الأحمر وخليج عدن . ( )
- ٥) من الهضاب البركانية هضبة اليمن . ( )
- ٦) جبال زاغروس وكردستان من الجبال الإنكسارية . ( )
- ٧) أكبر هضاب الوطن العربى بادية الشام . ( )
- ٨) سهول البحر الأحمر يستخرج منها مصادر الطاقة . ( )
- ٩) الثورات البركانية من العوامل الخارجية التى شكلت سطح الأرض . ( )
- ١٠) من الأودية الجافة وادى العلاقى فى الأردن . ( )
- ١١) وقفت الجبال والهضاب عائقاً أمام الوحدة بين الدول العربية وجعلته معزولاً عن العالم . ( )
- ١٢) يقع معظم وطننا العربى فى المنطقة المدارية الحارة . ( )



## س ٣ : اختر الإجابة الصحيحة مما بين الأقواس :

- (١) من الجبال الإلتوائية ..... ( الشام – أطلس – عمان )
- (٢) من هضاب الجناح الآسيوى هضبة ..... ( نجد – بادية الشام – حضر موت – كل ما سبق )
- (٣) من السهول الساحلية الغنية بالطاقة ..... ( البحر المتوسط – البحر الأحمر – وادى النيل )
- (٤) توجد سهول دجلة والفرات فى ..... ( مصر – العراق – الأردن )
- (٥) تقع هضبة الشطوط بين سلاسل جبال ... ( أطلس – عمان – الشام )
- (٦) تقع هضبة حضر موت فى ..... شبه الجزيرة العربية ( شمال – جنوب – شرق )
- (٧) أصغر الدول العربية مساحة ..... ( مصر – البحرين – قطر )
- (٨) تقع دولة جزر القمر فى المحيط ..... (الأطلس – الهادى – الهندى)
- (٩) يمر فى غرب الوطن العربى خط طول رئيسى (الاستواء – مدار السرطان – جرينتش)
- (١٠) يضم الجناح الآسيوى ..... دولة ( ١٠ ، ١١ ، ١٢ ، ١٣ )
- (١١) أكبر دول الجناح الآسيوى دولة ..... ( السعودية – البحرين – قطر )
- (١٢) أصغر دولة عربية مساحة فى قارة ..... ( اسيا – أفريقيا – أوروبا )
- (١٣) تتميز المناطق القارية بارتفاع درجة الحرارة فى فصل ..... (الشتاء – الخريف – الصيف)

## س ٤ : ما المقصود :

- الموقع الفلكى - الموقع الجغرافى - أهمية استراتيجية

## س ٥ : حدد العوامل التى ساعدت على تشكيل كل ظاهرة :

- (١) هضبة اليمن
- (٢) جبال الشام
- (٣) جبال زاغروس
- (٤) بحر الرمال العظيم
- (٥) جبال البحر الأحمر



## س ٦ : اكتب ما تشير إليه كل عبارة :

- ( ..... ) ١) جبال نشأت نتيجة إنكسار فى الأرض .
- ( ..... ) ٢) منخفضات خضراء فى الصحراء .
- ( ..... ) ٣) أودية كانت مملوءة بالمياه وجفت
- ( ..... ) ٤) تجمعات رملية فى الصحراء .
- ( ..... ) ٥) جبال إلتوائية فى بلاد المغرب العربى .
- ( ..... ) ٦) تتمثل فى نحت الماء للصخور مكوناً أودية جافة .
- ( ..... ) ٧) أرض منخفضة منبسطة بالقرب من البحار والمحيطات .

## س ٧ : بم تفسر :

- ١) أهمية موقع الوطن العربى الحضارية والدينية ؟
- ٢) أهمية موقع الوطن العربى الاقتصادية ؟
- ٣) أهمية موقع الوطن العربى الاستراتيجية ( العسكرية )
- ٤) تحكم الوطن العربى فى طرق التجارة العالمية ؟
- ٥) حدوث مشكلة فلسطين ؟
- ٦) حدوث مشكلة جنوب السودان ( دارفور )
- ٧) أهمية الحدود الطبيعية بالوطن العربى ؟
- ٨) تسمية هضبة الشطوط بهذا الاسم ؟
- ٩) أهمية الأودية الجافة بالوطن العربى ؟
- ١٠) أهمية تضاريس الوطن العربى ؟
- ١١) أهمية الجبال ؟
- ١٢) كثرة السكان فى السهول الفيضية ؟
- ١٣) خصوبة تربة السهول الفيضية فى الوطن العربى ؟
- ١٤) أهمية الواحات بالوطن العربى ؟



- (١٥) أهمية الأودية الجافة بالوطن العربى ؟
- (١٦) للتضاريس أثر كبير فى وحدة الوطن العربى ؟
- (١٧) للجبال على سطح الأرض أهمية ؟
- (١٨) سميت الرياح التجارية بهذا الاسم ؟
- (١٩) تغطى الثلوج قمم بعض الجبال العالية فى وطننا العربى ؟
- (٢٠) سفوح جبال اطلس المواجهة للمسطحات المائية اغزر مطراً من السفوح الداخلية ؟

## س٧ : ما النتائج :


- (١) الموقع الفلكى للوطن العربى ؟
- (٢) الموقع الجغرافى للوطن العربى ؟
- (٣) تنوع الأقاليم المناخية فى الوطن العربى ؟
- (٤) تحكم الوطن العربى فى مضائق وممرات هامة ؟
- (٥) ارتفاع جبال لبنان ارتفاعاً شاهقاً ؟



## ثانياً : التاريخ

### س ١ : أكمل ما يلى :

- (١) من صفات شيخ القبيلة ..... و ..... و .....
- (٢) إحتلت الروم بعض الدول مثل ..... و ..... وكذلك الفرس إحتلت ..... و .....
- (٣) قامت فى شبه الجزيرة مجموعة من الممالك مثل ..... و ..... فى الجنوب ، ..... و ..... فى الشمال وكذلك مدن مثل ..... و ..... فى الوسط .....
- (٤) انتشرت ..... و ..... فى أجزاء قليلة من شبه الجزيرة العربية والقليل منهم على .....
- (٥) الحنيفيون هم الذين عبدوا الله على دين ..... عليه السلام .
- (٦) انقسم المجتمع العربى قديماً إلى ..... يسكنوا الصحراء ويعملوا ..... و ..... سكنوا المدن وعملوا ..... و ..... و .....
- (٧) حظى بعض النساء بمكانة عالية مثل السيدة ..... و ..... التى مارست مهنة الطب
- (٨) ولد النبى (ص) فى ..... عام ..... م وعرف بعام .....
- (٩) عندما بلغ النبى (ص) ..... أخذته أمه لزيارة أخواله من ..... فى يثرب وماتت أثناء عودتها إلى .....
- (١٠) تعلم الرسول من حرفة الرعى ..... - ..... - .....
- (١١) أنجبت السيدة خديجة ولدان هما ..... و ..... وأربع بنات هم ..... - ..... - .....
- (١٢) ذهبت السيدة خديجة بالرسول (ﷺ) إلى ..... والذى أخبره بأنه نبى هذه الأمة .



- ١٣) ساند الرسول (ﷺ) فى دعوته عمه ..... بينما حاربه عمه .....
- ١٤) أول من أسلم من الرجال ..... ومن الصبيان ..... ومن الموالى .....
- ١٥) مرت دعوة الرسول (ﷺ) ب ..... مراحل .

## س ٢ : ضع علامة (✓) أو علامة (x) :

- ( ) ١) مكث الرسول فى بيت حليلة السعدية ثلاث سنوات .
- ( ) ٢) يمتد نسب الرسول (ﷺ) لإسماعيل بن إبراهيم عليه السلام .
- ( ) ٣) خرج الرسول (ﷺ) مع عمه فى رحلة تجارية للشام وهو فى الخامسة عشرة .
- ( ) ٤) أقام النبى (ﷺ) مع أمه حتى الثامنة .
- ( ) ٥) بعث الرسول (ﷺ) فى سن الأربعين .
- ( ) ٦) كان الاسراء والمعراج تكريماً للرسول (ﷺ).
- ( ) ٧) رحبت قريش بالدعوة الإسلامية .
- ( ) ٨) كانت رحلة الأسراء والمعراج تشبيهاً وتكريماً للرسول (ﷺ) .
- ( ) ٩) سمى العام الذى ماتت فيه السيدة خديجة وأبو طالب بعام الفيل .
- ( ) ١٠) هاجر إلى الحبشة عثمان بن عفان وزوجته أم كلثوم بنت النبى (ﷺ) .

## س ٣ : اكتب ما تدل عليه العبارات التالية :

- ( ..... ) ١) دولة إترفتم بالمسيحية ديناً رسمياً للبلاد .
- ( ..... ) ٢) أشهر أسواق العرب .
- ( ..... ) ٣) دولة انتشر بها عبادة البقر والزواحف .
- ( ..... ) ٤) جماعة من الناس ينتمون لأصل واحد .
- ( ..... ) ٥) دولتين تحدث عنهما القرآن .
- ( ..... ) ٦) ما ينزله الله على الأنبياء عن طريق جبريل .





- ( ..... ) ٧) العام الذى أراد به أبرهه الحبشى هدم الكعبة .  
( ..... ) ٨) العام الذى فقد فيه الرسول (ﷺ) عمه وزوجته .  
( ..... ) ٩) أختار الرسول (ﷺ) بيته ليكون أول مدرسه فى الإسلام .

## س ٤ : بم تفسر :

- ١) اختيار الله تعالى شبه الجزيرة العربية مهذاً لرسالة النبى (ﷺ) ؟  
٢) هلاك قوم ثمود وعاد وسبأ ؟  
٣) كان العالم فى حاجة لمجئ محمد (ﷺ) ؟  
٤) عرض الرسول (ﷺ) نفسه على الوفود العربية موسم الحج ؟  
٥) اختيار الرسول (ﷺ) الحبشه لهجرة المسلمين ؟  
٦) قيام الرسول (ﷺ) برحلة الطائف ؟  
٧) اعتبار دار بن الارقم أول مدرسه فى الإسلام ؟

## س ٥ : ما النتائج :

- ١) إنتشار القبائل المتفرقة فى شبه الجزيرة العربية ؟  
٢) إنحراف الروم عن مبادئ الدين المسيحى ؟  
٣) عرض الرسول (ص) نفسه على وفود القبائل فى موسم الحج ؟






## الإجابات

### أولاً الجغرافيا

س ١ : أكمل ما يلى :

- (١) الدول العربية جميعها يجمعها لغة واحدة ومكان واحد وتاريخ مشترك .
- (٢) يقع الوطن العربى بين قارات العالم القديم ويمتد أراضيها فى قارتى آسيا و أفريقيا .
- (٣) يشرف الوطن العربى على محيطين هما المحيط الهندي والمحيط الأطلسي .
- (٤) الدول العربية التى تقع خارج النطاق الفلكي للوطن العربى هى دولة جزر القمر تقع جنوب خط الاستواء عند دائرة عرض ١٢ جنوباً فى المحيط الهندي شمال جزيرة ملجاش عند مضيق موزمبيق .
- (٥) من أهم الحضارات فى الوطن العربى الحضارة الفرعونية فى مصر وبلاد الرافدين بالعراق .
- (٦) من الدول التى لم تحصل على استقلالها فلسطين ومن المدن المغربية سبتة و مليلة .
- (٧) عوامل تشكيل سطح الأرض فى الوطن العربى تنقسم إلى عوامل باطنية وخارجية .
- (٨) من العوامل الباطنية التى شكلت سطح الوطن العربى الحركات الإلتوائية و الحركات الإنكسارية و الثورات البركانية .
- (٩) تمتد جبال أطلس من الغرب إلى الشرق فى دول المغرب و تونس و الجزائر .
- (١٠) تتحصر بين جبال أطلس التل فى الشمال وأطلس الصحراء فى الجنوب هضبة الشطوط .
- (١١) تعرف جبال البحر الأحمر فى السعودية الحجاز فى الشمال ، عسير فى الوسط ، اليمن بالجنوب .
- (١٢) من الجبال الإنكسارية البحر الأحمر ، الشام .
- (١٣) من الهضاب الناشئة نتيجة ثورات بركانية هضبة اليمن .
- (١٤) أكبر الظواهر التضاريسية مساحة فى الجانب الأفريقى هضبة أفريقيا الشمالية .



- ١٥) من أمثلة الهضاب فى الجناح الاسيوى فى شبه الجزيرة العربية بادية الشام فى الشمال،  
نجد فى الوسط و حضر موت فى الجنوب .
- ١٦) من العوامل المؤثرة فى مناخ الوطن العربى الموقع بالنسبة لدوائر العرض و القرب أو البعد عن المسطحات المائية و التضاريس .

س ٢ : ضع علامة (✓) أو علامة (x) :

- |                         |                          |
|-------------------------|--------------------------|
| (٢) (x) الأفريقية       | (١) (x) ٧٧ خط طول        |
| (٤) (x) مضيق باب المندب | (٣) (✓)                  |
| (٦) (x) الإلتوائية      | (٥) (✓)                  |
| (٨) (✓)                 | (٧) (x) أفريقيا الشمالية |
| (١٠) (x) فى مصر         | (٩) (x) الباطنية         |
| (١٢) (✓)                | (١١) (x) لم تقف          |

س ٣ : اختر الإجابة الصحيحة مما بين الأقواس :

- (١) من الجبال الإلتوائية ..... ( الشام - أطلس - عمان )
- (٢) من هضاب الجناح الاسيوى هضبة .....  
( نجد - بادية الشام - حضر موت - كل ما سبق )
- (٣) من السهول الساحلية الغنية بالطاقة .....  
( البحر المتوسط - البحر الأحمر - وادى النيل )
- (٤) توجد سهول دجلة والفرات فى ..... ( مصر - العراق - الأردن )
- (٥) تقع هضبة الشطوط بين سلاسل جبال ( أطلس - عمان - الشام )
- (٦) تقع هضبة حضر موت فى ..... شبه الجزيرة العربية  
( شمال - جنوب - شرق )
- (٧) أصغر الدول العربية مساحة ..... ( مصر - البحرين - قطر )



٨) تقع دولة جزر القمر فى المحيط ..... (الأطلسي - الهادى - الهندي)

٩) يمر فى غرب الوطن العربى خط طول رئيسى

( الاستواء - مدار السرطان - جرينتش )

١٠) يضم الجناح الاسيوى ..... دولة. ( ١٠ ، ١١ ، ١٢ ، ١٣ )

١١) أكبر دول الجناح الاسيوى دولة ( السعودية - البحرين - قطر )

١٢) أصغر دولة عربية مساحة فى قارة ( اسيا - أفريقيا - أوروبا )

١٣) تتميز المناطق القارية بارتفاع درجة الحرارة فى فصل.....

(الشتاء - الخريف - الصيف)

## س ٤ : ما المقصود :

- الموقع الفلكى : موقع المكان بالنسبة لخطوط الطول ودوائر العرض .
- الموقع الجغرافى : موقع المكان بالنسبة لليابس والماء .
- أهمية استراتيجية : الأهمية وقت السلم والحرب والأزمات .

## س ٥ : حدد العوامل التى ساعدت على تشكيل كل ظاهرة :

- |                          |                          |
|--------------------------|--------------------------|
| ( ١ ) ( ثورات بركانية )  | ( ٢ ) ( حركات إنكسارية ) |
| ( ٣ ) ( حركات إلتوائية ) | ( ٤ ) ( تعرية هوائية )   |
| ( ٥ ) ( حركات إنكسارية ) |                          |

## س ٦ : اكتب ما تشير إليه كل عبارة :

- |                         |                         |
|-------------------------|-------------------------|
| ( ١ ) ( جبال إنكسارية ) | ( ٢ ) ( الواحات )       |
| ( ٣ ) ( أودية جافة )    | ( ٤ ) ( تكوينات رملية ) |
| ( ٥ ) ( جبال أطلس )     | ( ٦ ) ( تعرية مائية )   |
| ( ٧ ) ( سهول ساحلية )   |                         |



س ٧ : بم تفسر :

(١) أهمية موقع الوطن العربى الحضارية والدينية ؟

الحضارية : قامت على أرضه العديد من الحضارات ( الحضارة الفرعونية فى مصر - بلاد

الرافدين فى العراق - حضارات بلاد الشام )

الدينية : (١) مهد الديانات السماوية ( اليهودية والمسيحية والإسلام )

(٢) به اماكن مقدسة ( الكعبة بالسعودية ) ( كنيسة المهد - وبيت المقدس بفلسطين )

(٢) أهمية موقع الوطن العربى الاقتصادية ؟

١- تنوع موارده الاقتصادية لتنوع الأقاليم المناخية والنباتية

٢- به بترول وغاز طبيعى .

٣- يشرف على ٣ أذرع مائية ( البحر الأحمر - البحر المتوسط - الخليج العربى )

٤- موقعة متوسط بين قارات العالم .

٥- تحكمه فى ٤ ممرات مائية ( مضيق جبل طارق - باب المندب - هرمز - قناة

السويس )

(٣) أهمية موقع الوطن العربى الاستراتيجية ( العسكرية )

١- إشرافه على بحار وخلجان هامة .

٢- تحكمه فى طرق الملاحة العالمية لتحكمه فى ٤ ممرات مائية وقناة السويس .

(٤) تحكم الوطن العربى فى طرق التجارة العالمية ؟

١- موقعه المتوسط بين القارات

٢- إشرافه على ٣ أذرع مائية .

٣- إشرافه على ٤ ممرات مائية .

(٥) حدوث مشكلة فلسطين ؟

سعى الاستعمار إقامة كيان استيطانى للقضاء على الوحدة العربية .

(٦) حدوث مشكلة جنوب السودان ( دارفور )

سعى الدول الاستعمارية تقسيم السودان للاستيلاء على خيراته .



(٧) أهمية الحدود الطبيعية بالوطن العربى ؟

- ١- الحفاظ على الشخصية العربية
  - ٢- البحار والمحيطات ساعدت على اتصاله بالعالم الخارجى .
- (٨) تسمية هضبة الشطوط بهذا الاسم ؟

لانتشار مجموعة من البحيرات المالحة فوق سطحها وتعرف بالشطوط .

(٩) أهمية الأودية الجافة بالوطن العربى ؟

- ١- الحصول على المياه الجوفية
- ٢- تستخدم كطرق للمواصلات

(١٠) أهمية تضاريس الوطن العربى ؟

- ١- الحفاظ على الشخصية العربية
- ٢- البحار والمحيطات ساعدت على اتصال الوطن العربى بالعالم الخارجى .
- ٣- نهر النيل ساعد على انتقال الثقافة العربية والدين الإسلامى لقلب أفريقيا .

(١١) أهمية الجبال ؟

- ١- الحفاظ على توازن الأرض أثناء دورانها
- ٢- مصدر الثروة المعدنية .

(١٢) كثرة السكان فى السهول الفيضية ؟

حيث التربة الخصبة الصالحة للزراعة .

(١٣) خصوبة تربة السهول الفيضية فى الوطن العربى ؟

لأنها مكونة من ترسيب المواد العالقة بمياه الأنهار .

(١٤) أهمية الواحات بالوطن العربى ؟

- ١- يعيش بها الإنسان .
- ٢- ويربى الحيوانات .
- ٣- ويزرع بعض المحاصيل الزراعية بها .



(١٥) أهمية الأودية الجافة بالوطن العربى ؟

١- الحصول منها على المياه الجوفية .

٢- تستخدم كطرق للواصلات .

(١٦) للتضاريس أثر كبير فى وحدة الوطن العربى ؟

حيث الجبال و الهضاب و البحار لم تقف عائقاً أمام الوحدة العربية بل :

١- حافظت على شخصيته العربية .

٢- ساعدت بحاره على : الاتصال بالعالم الخارجى

٣- ساعد نهر النيل على : انتقال الثقافة العربية و الدين الإسلامى إلى قلب أفريقيا .

(١٧) للجبال على سطح الأرض أهمية ؟

١- تحافظ على توازن الأرض أثناء دورانها .

٢- مصدر للكثير من الثروة المعدنية .

(١٨) سميت الرياح التجارية بهذا الاسم ؟

لأنها كانت يستفاد منها فى تسيير السفن الزراعية .

(١٩) تغطى الثلوج قمم بعض الجبال العالية فى وطننا العربى ؟

لأن درجة الحرارة تنخفض درجة واحدة كلما ارتفعنا ١٥٠ م عن سطح البحر .

(٢٠) سفوح جبال أطلس المواجهة للمسطحات المائية اغزر مطراً من السفوح الداخلية ؟

بسبب اتجاه الكتل الجبلية التى تؤثر على كمية المطر أى أن سفوح جبال أطلس

المواجهة للبحر تصطدم بالرياح المحملة ببخار الماء بينما يسود الجفاف فى المناطق

الداخلية للجبال وتقع فى منطقة ظل المطر .



## س ٧ : ما النتائج :

(١) الموقع الفلكى للوطن العربى ؟

- ١- يمتد بين دائرتى عرض ٢٠° جنوباً حتى ٣٧,٥° شمالاً . ( ٣٩,٥ دائرة عرضية )
- ٢- يمتد بين خطى طول ٦٠° شرقاً ، ١٧° غرباً ( ٧٧ خط طول )
- ٣- مرور خط الاستواء فى الجنوب - ومدار السرطان فى الشمال .
- ٤- مرور خط الطول الرئيسى ( خط جرينيتش ) فى غرب الوطن العربى .
- ٥- وقوع معظم الوطن العربى فى المنطقة المدارية الحاره ما عدا الأجزاء الشمالية تقع فى المنطقة المعتدلة .

(٢) الموقع الجغرافى للوطن العربى ؟

- ١- تحكمه فى الملاحة العالمية
- ٢- تحكمه فى ٤ ممرات تجارية هامة
- (٣) تنوع الأقاليم المناخية والنباتية فى الوطن العربى ؟
  - ١- تنوع موارده الاقتصادية
  - ٢- زادت من أهميته الاقتصادية
- (٤) تحكم الوطن العربى فى مضائق وممرات هامة .
  - ١- تحكمه فى الملاحة العالمية والتجارة العالمية
  - ٢- زادت أهميته الاقتصادية والاستراتيجية .
- (٥) ارتفاع جبال لبنان ارتفاعاً شاهقاً .  
أدى ذلك إلى تكوين الجليد على قمم الجبال .






## ثانياً : التاريخ

س ١ : أكمل ما يلى :

- (١) من صفات شيخ القبيلة الحكمة و الشجاعة و الكرم
- (٢) إحتلت الروم بعض الدول مثل مصر و بلاد الشام وكذلك الفرس إحتلت العراق و اليمن .
- (٣) قامت فى شبه الجزيرة مجموعة من الممالك مثل معين و حمير فى الجنوب ، الحيرة و الغساسنة فى الشمال وكذلك مدن مثل مكة و يثرب فى الوسط .
- (٤) انتشرت اليهودية و المسيحية فى أجزاء قليلة من شبه الجزيرة العربية والقليل منهم على الحنيفية .
- (٥) الحنيفيون هم الذين عبدوا الله على دين إبراهيم عليه السلام .
- (٦) انقسم المجتمع العربى قديماً إلى بدو يسكنوا الصحراء ويعملوا بالرعى و حضر سكنوا المدن وعملوا بالزراعة و الصناعة و التجارة .
- (٧) حظى بعض النساء بمكانة عالية مثل السيدة خديجة و رقية التى مارست مهنة الطب .
- (٨) ولد النبى (ﷺ) فى مكة يوم الاثنين ١٢ ربيع الأول عام ٥٧١ م وعرف بعام الفيل .
- (٩) عندما بلغ النبى (ﷺ) السادسة أخذته أمه لزيارة أخواله من بنى النجار فى يثرب وماتت أثناء عودتها إلى مكة .
- (١٠) تعلم الرسول من حرفة الرعى الصبر - التواضع - الشجاعة - الرحمة
- (١١) أنجبت السيدة خديجة ولدان هما القاسم و عبدالله وأربع بنات هم زينب - رقية - فاطمة - أم كلثوم .
- (١٢) ذهبت السيدة خديجة بالرسول (ﷺ) إلى ورقة بن نوفل الذى أخبره بأنه نبى هذه الأمة .
- (١٣) ساند الرسول (ﷺ) فى دعوته عمه أبو طالب بينما حاربه عمه أبو لهب .
- (١٤) أول من أسلم من الرجال أبو بكر الصديق ومن الصبيان على بن أبى طالب ومن الموالى زيد بن حارثة .
- (١٥) مرت دعوة الرسول (ﷺ) بـ أربع مراحل .



س ٢ : ضع علامة (✓) أو علامة (x) :

- |                 |                     |
|-----------------|---------------------|
| (٢) (✓)         | (١) (x) أربعة       |
| (٤) (x) السادسة | (٣) (x) الثانية عشر |
| (٦) (✓)         | (٥) (✓)             |
| (٨) (✓)         | (٧) (x) رفضت وعارضت |
| (١٠) (x) رقيه   | (٩) (x) عام الحزن   |

س ٣ : اكتب ما تدل عليه العبارات التالية :

- |                         |                                |
|-------------------------|--------------------------------|
| (٢) (عكاظ - ذى المجاز ) | (١) (الروم )                   |
| (٤) (القبيلة )          | (٣) ( الهند )                  |
| (٦) (الوحى )            | (٥) (الروم والفرس )            |
| (٨) (عام الحزن )        | (٧) (عام الفيل )               |
|                         | (٩) (دار الأرقم بن أبى الأرقم) |

س ٤ : بم تفسر :

(١) اختيار الله تعالى شبه الجزيرة العربية مهذاً لرسالة النبى (ﷺ) ؟

١- منطقة هادئة

٢- بعيدة عن الصراعات والانحرافات

(٢) هلاك قوم ثمود وعاد وسبأ ؟

لأنهم عصوا الله وكذبوا بالانبياء والرسل .

(٣) كان العالم فى حاجة لمجئ محمد (ﷺ)

١- ليرشد الناس لعبادة الله

٢- نشر العدل والمساواة والتسامح والرحمة

(٤) عرض الرسول (ﷺ) نفسه على الوفود العربية موسم الحج ؟

١- ليدعوهم للإسلام

٢- يطلب النصرة والمساعدة



٥) اختيار الرسول (ﷺ) الحبشة لهجرة المسلمين ؟

لأن ملكها النجاشى كان لا يظلم عنده أحد وهى أرض صدق .

٦) قيام الرسول (ﷺ) برحلة الطائف ؟

لرغبته (ﷺ) فى مكان آخر للدعوة غير مكة فقصد الطائف يلتمس النصره من قبيلة ثقيف بعد أن فقد الرسول (ﷺ) عمه أبا طالب وزوجته خديجة اللذين كانا عوناً له على قومه .

٧) اعتبار دار بن الارقم أول مدرسه فى الإسلام ؟

لأن الرسول (ﷺ) اختارها لتكون أول مكان لدراسة وتعليم مبادئ الدين الجديد وهو الإسلام .

## س ٥ : ما النتائج :

١) إنتشار القبائل المتفرقة فى شبه الجزيرة العربية ؟

أصبح النظام القبلى هو النظام السياسى السائد .

٢) إنحراف الروم عن مبادئ الدين المسيحى ؟

اضطهدوا كل من يخالفهم فى رأى والعقيدة .

٣) عرض الرسول (ﷺ) نفسه على وفود القبائل فى موسم الحج ؟

إلتقى بستة رجال من أهل يثرب فدعاهم للإسلام فاجابوه .